

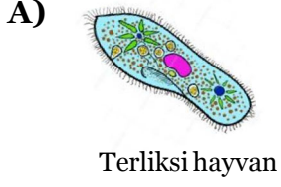


5.sınıf Fen Bilimleri Test Soruları

1. Gözle görülemeyecek kadar küçük, ancak mikroskop adı verilen araçla gözlemlenebilen canlılara **mikroskobik canlılar** adı verilir.

Buna göre aşağıda verilen canlılardan hangisi mikroskobik canlılara örnek verilemez?



2. Aşağıda bazı bilgiler verilmiştir.

- I. Sadece zararlı çeşitleri vardır.
- II. En basit mikroskobik canlılardır.
- III. Sütten, yoğurt elde edilmesinde rol oynarlar.

Buna göre yukarıda verilen bilgilerden hangisi ya da hangileri bakterilerin özellikleri arasında yer alır?

- A) Yalnız II
B) I ve II
C) II ve III
D) I, II ve III





3.







Yukarıda verilen ekmek üzerinde oluşan mantar türü aşağıda verilenlerden hangisidir?

- A) Maya mantarı
B) Küf mantarı
C) Şapkali mantar
D) Parazit mantar

4. Aşağıdaki öğrencilerden hangisinin mantarlar ile ilgili verdiği bilgi yanlıştır?

- A) 
Mete
Zehirli olan türleri vardır.
- B) 
Dilara
Kendi besinlerini kendileri üretirler.
- C) 
Pelin
Bazı türleri çeşitli hastalıklara sebep olur.
- D) 
Ahmet
Yenilebilen türleri protein bakımından oldukça zengindir.

5. Aşağıda verilen bitkilerden hangisi çiçekli bitkilere örnek olarak verilebilir?

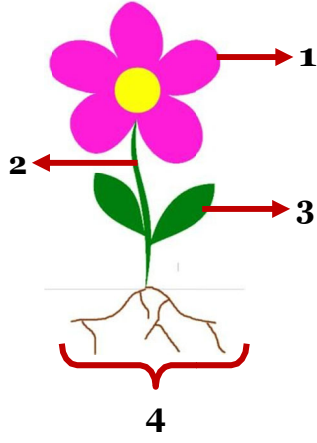
- A) 
Mısır
- B) 
Kara yosunu
- C) 
Eğrelti otu
- D) 
At kuyruğu

6. Bazı bitkiler köklerinde besin depolama özelliğine sahiptirler.

Buna göre, aşağıda verilen bitki çeşitlerinden hangisi kökünde besin depolayan bitki türüne örnek olarak verilemez?

- A) Patates
B) Turp
C) Kabak
D) Havuç

7. Aşağıdaki modelde bir çiçekli bitkinin temel kısımları verilmiştir.







Buna göre, numaralandırılmış yapılardan hangisi bitkinin çiçek, yaprak, dal ve meyve gibi kısımlarını taşıyan yapıdır?

- A) 1 B) 2 C) 3 D) 4

8. Bitkiler ile ilgili verilen bilgilerden hangisi yanlıştır?

- A) Kendi besinlerini kendileri üretirler.
B) Çiçekli ve çiçeksiz olmak üzere ikiye ayrılırlar.
C) Orman, göl, dağ ve tepe gibi birçok yerde yaşarlar.
D) Bütün bitkiler çiçek, kök, gövde ve yaprak gibi temel kısımlardan oluşur.

9. Aşağıdaki canlılardan hangisi diğerlerinden farklı bir grupta yer alır?

- A)  B) 
C)  D) 

10. Aşağıdaki resimlerde iki canlı ve bu canlılarla ilgili bazı özellikler verilmiştir.







1. Yumurta ile çoğalır.
2. Omurgalı hayvandır.
3. Vücudu tüylerle kaplıdır.
4. Yavrularını süt ile besler.
5. Memeliler sınıfında yer alır.

Buna göre verilen özelliklerden hangileri sadece L canlısına aittir?

- A) 1, 2 ve 3 B) 4 ve 5
C) 2, 4 ve 5 D) 2, 3, 4 ve 5

11. Aşağıdaki canlılardan hangisi kuşlar grubunda yer almaz?


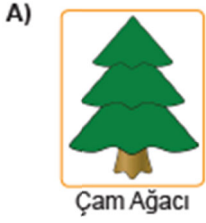
- A)  B) 
C)  D) 

12. Omurgalı hayvanlar; balıklar, kurbağalar, kuşlar, sürüngenler ve memeliler olmak üzere beş gruba ayrılır.

Buna göre aşağıdakilerden hangisi memeliler için yanlıştır?

- A) Doğurarak çoğalır.
B) Vücutları tüylerle kaplıdır.
C) En gelişmiş hayvan grubudur.
D) Yavrularına bakar ve onları süt ile beslerler.

13. Aşağıdaki görsellerde verilenlerden hangisi çiçeksiz bir bitkidir?



14. Gündüz Güneş'in konumları Farklı gecelerde Ay'ın görünümü



Güneş'in ve Ay'ın bu şekilde görüntüsünün sebebi hangi seçenekte doğru cevaplanmıştır?

1. Görüntü

2. Görüntü

- A) Güneş'in Dünya'nın etrafında dolanması
- B) Dünya'nın küre şeklinde olması
- C) Dünya'nın kendi etrafında dönmesi
- D) Dünya'nın Güneş etrafında dolanması

- Dünyanın küre şeklinde olması
- Ay'ın kendi etrafında dönmesi
- Ay'ın Dünya etrafında dolanması
- Ay'ın küre şeklinde olması

15.



Görsellerde verilenlerden hangisi besin olarak tüketilir?

- A) Maya Mantarı
- B) Küf Mantarı
- C) Parazit Mantar
- D) Şapkali Mantar

16. Aşağıda Ay'ın bir evresi verilmiştir.







(dolunay evresi)

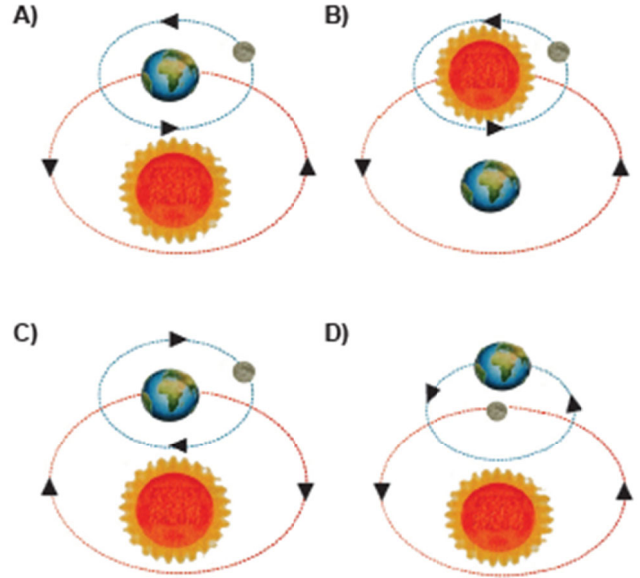
Bu evreden bir hafta önceki ve bir hafta sonraki evreler hangi şıkta doğru olarak verilmiştir?

Bir hafta önce

Bir hafta sonra

- A) 
- B) 
- C) 
- D) 

17. Aşağıda verilen Güneş, Dünya ve Ay'ın konumları ve dolanma hareketleri ile ilgili olarak hangisi doğrudur?



18. Mantarlar aşağıdakilerden hangisinde görev almazlar?

- A) Besinlerin küflenmesinde
- B) İnsanlarda bazı hastalıkların oluşmasında
- C) Hamurun mayalanmasında
- D) Fotosentez ile besin ve oksijen üretilmesinde

